


INSTRUÇÃO PARA REALIZAÇÃO DAS PROVAS DO CONCURSO PÚBLICO PARA PROVIMENTO DE EMPREGOS PÚBLICOS DA AGÊNCIA DE FOMENTO DE MATO GROSSO

- I. Este Caderno contém 60 questões. Caso apresente defeito de impressão ou falta de questão, solicite ao fiscal outro Caderno.
- II. Cada questão das Provas possui 05 (cinco) alternativas, de (a) a (e), de múltipla escolha, e o candidato deverá assinalar apenas uma alternativa como resposta.
- III. Verifique se as informações do Cartão de Respostas estão corretas.
- IV. O Cartão de Respostas apresenta uma coluna para cada questão, e o candidato deverá pintar completamente o círculo correspondente à alternativa escolhida ●, ou seja, não preencha assim .
- V. Para preenchimento do Cartão de Respostas utilize caneta esferográfica de tinta azul ou preta não porosa.
- VI. O tempo de duração das provas é de 3 (três) horas, já incluído o tempo destinado ao preenchimento do Cartão de Respostas.
- VII. O candidato só poderá deixar a sala 2 horas após o início das provas.
- VIII. O candidato somente poderá levar este Caderno 15 (quinze) minutos antes do horário determinado para o término das provas.
- IX. Ao término das provas, entregue o Cartão de Respostas e este Caderno ao fiscal.

A partir de 02/02/2009.	Divulgação do gabarito preliminar das provas objetivas, na internet – nos sites www.unemat.br/concursos e www.concursos.sad.mt.gov.br
48 horas após a divulgação.	Recebimento de recursos contra os gabaritos preliminares das provas objetivas no site www.unemat.br/concursos
A partir de 10/02/2009.	Publicação do gabarito final oficial.
A partir de 16/02/2009.	Recebimento de recursos contra desempenho do candidato nos sites www.unemat.br/concursos , e www.concursos.sad.mt.gov.br
48 horas após a divulgação.	Prazo para recurso contra desempenho do candidato.
A partir de 27/02/2009.	Divulgação do resultado nos sites, www.unemat.br/concursos , e www.concursos.sad.mt.gov.br

BOA PROVA!

LÍNGUA PORTUGUESA

Texto I



SE O SEU PRESENTE NÃO FOR UM CHILLI BEANS,
O "AH, NÃO PRECISAVA" VAI SER SINCERO.

Não seja o mané da festa, dê um
vale-presente Chilli Beans.
O presente oficial do amigo secreto.

Ganhei um
chilli beans

chilli/beans

TODA SEMANA UMA NOVA COLEÇÃO.

Azucrine seu amigo secreto.
Acesse
www.chillibeans.com.br/amigo

(Revista *Veja* de 3/12/08)

Leia o texto acima e responda as questões 1 e 2.

QUESTÃO 01

Assinale a alternativa **correta**.

- O principal objetivo da propaganda é publicizar o vale-convite da nova coleção Chilli Beans.
- A propaganda é dirigida exclusivamente ao público-alvo que participa das brincadeiras de amigo secreto.
- A propaganda utiliza como estratégia para a venda do produto Chilli Beans uma brincadeira muito comum nas comemorações de final de ano.
- Os segmentos "Ah, não precisava" e "Ganhei um Chilli Beans" reproduzem a linguagem das pessoas que ganharam produtos da marca Chilli Beans.
- O texto publicitário emprega os recursos de que a língua dispõe para mostrar ao consumidor a fabricação do produto que está sendo comercializado.

QUESTÃO 02

Assinale a alternativa **correta**.

- A propaganda de óculos da marca Chilli Beans se enquadra na tipologia de gênero informativo.
- O enunciado "Não seja o mané da festa" refere-se àquele que adquirir o produto comercializado.
- As formas verbais "dê" e "azucrine" são empregadas no modo subjuntivo para persuadir o virtual comprador.
- A substituição do produto pela marca "Chilli Beans", na propaganda, estabelece uma relação metafórica.
- O enunciado "Se o seu presente não for um Chilli Beans, o 'ah, não precisava' vai ser sincero" equivale a "Se o seu presente for um Chilli Beans, o 'ah, não precisava' não vai ser sincero".

Texto II

CHÁ VERDE

O chá verde é um chá não fermentado da planta *Camellia sinensis* e é apreciado em todo o mundo há mais de mil anos.

O chá verde YAMAMOTOYAMA é plantado e produzido no Brasil com o mesmo padrão de tecnologia e tradição do Japão. Por isso é exportado para o próprio Japão e Estados Unidos, onde o chá

verde é consumido em todas as ocasiões com grande aceitação dos seus apreciadores. Todo sabor e aroma do Oriente você encontra no chá verde YAMAMOTOYAMA.

Não contém Glúten.

MIDORI INDÚSTRIA DE CHÁ LTDA.

Leia o texto II e responda as questões 3 e 4.

QUESTÃO 03

O texto tem como objetivo.

- Destacar a tecnologia e a tradição da bebida.
- Divulgar os benefícios do chá oriental.
- Apresentar informações sobre o chá verde.
- Discutir o intercâmbio comercial entre Brasil, Japão e Estados Unidos.
- Difundir nos Estados americanos o chá de sabor oriental.

QUESTÃO 04

Quanto à composição do gênero, pode-se dizer que o texto:

- ênfatica exaustivamente o produto.
- explica a posologia do chá verde.
- questiona os benefícios do produto.
- especifica o modo de fabricação.
- descreve pormenorizadamente o consumo.

Texto III

Thaís Persoza

Atriz, 22 anos

Há quanto tempo bebe o chá verde? dois anos

Por que começou a tomar: sua médica ortomolecular indicou a bebida para acelerar o metabolismo e assim ajudar na dieta (e, depois, na manutenção do peso).

Com que frequência toma: todos os dias. "Levo os sachês dentro da bolsa para preparar o chá onde eu estiver".

Os benefícios que ela notou: equilibrou o organismo e contribuiu para que perdesse 5 quilos.

(Veja On line 08/11/06)

Em relação ao texto III, responda as questões de 5 a 7.

QUESTÃO 05

Assinale (F) para os itens falsos e (V) para os verdadeiros.

- O texto constitui-se de entrevista sobre um determinado tema.
- O texto discute, como conteúdo temático, a boa forma da atriz Thaís Fersoza.
- A interação entre o entrevistador e a entrevistada evidencia o estilo usado pelo autor.
- O chá é empregado como mecanismo único na aceleração da perda de peso.

Assinale a alternativa **correta**.

- V V V F
- F V V V
- F F V F
- V F V F
- V F F V

QUESTÃO 06

“Todos os dias levo os sachês dentro da bolsa”. Na transposição da fala da personagem para o discurso indireto, a alternativa **correta** é.

- A atriz disse que levava os sachês dentro da bolsa todos os dias.
- A atriz disse que levava os sachês todos os dias dentro da bolsa.
- Todos os dias, a atriz disse que levou os sachês dentro da bolsa.
- Dentro da bolsa foram levados os sachês pela atriz todos os dias.
- A atriz, todos os dias, levaria os sachês dentro da bolsa.

QUESTÃO 07

Assinale a alternativa que corresponde ao gênero do texto.

- Artigo.
- Propaganda.
- Instrução.
- Entrevista
- Conversa formal.

QUESTÃO 08

Assinale a alternativa em que a concordância verbal está **incorreta**.

- Ficou excluído 1% dos produtos farmacêuticos.
- A maioria das atrizes está fazendo uso do medicamento diurético.
- Vendem-se produtos para emagrecimento nos melhores supermercados do país.
- A atriz diz que faz dois anos que usa o chá verde.
- Cada um dos vendedores devem preencher as fichas.

Texto IV

A partir de 1º de janeiro, os brasileiros passam a escrever diferente: caem o trema e alguns acentos, mudam as regras do hífen – e instalam-se as dúvidas. O novo acordo pretende unificar a maneira como os cidadãos lusófonos do mundo grafam seu idioma. (Veja de 31/12/2008 - Texto adaptado).

QUESTÃO 09

Assinale a alternativa que exprime a informação do texto IV.

- Reforma ortográfica de todas as palavras da língua portuguesa.
- Acordo ortográfico entre os países de cidadãos lusófonos.
- Mudança na pronúncia dos vocábulos dos países de língua portuguesa.
- Caem os acentos da língua portuguesa falada em países lusófonos.
- Unificação do modo como os lusófonos grafam seu idioma.

QUESTÃO 10

O segmento “Permanece aqui e espera-me”, na forma negativa, corresponde a:

- Não permaneça aqui e não me espere.
- Não permaneças aqui e não me esperes.
- Não permaneças aqui e não me espere.
- Não permaneça aqui e não me esperes.
- Não permanece aqui e não me esperes.

Texto V

Epigrama nº. 1

Pousa sobre os espetáculos infatigáveis
Uma sonora ou silenciosa canção:
Flor do espírito, desinteressada e efêmera.

Por ela, os homens te conhecerão:
Por ela, os tempos versáteis saberão
Que o mundo ficou mais belo, ainda que
inutilmente,
Quando por ele andou teu coração.
(Cecília Meireles)

Leia o poema e responda as questões 11 e 12.

QUESTÃO 11

Assinale a alternativa **incorreta**.

- Os pronomes “te” e “teu” indicam uma interlocução entre a autora e o poeta.
- Os dois primeiros versos do poema estão escritos na ordem inversa.
- Em “Pousa sobre os espetáculos infatigáveis” e “Pousa os olhos na paisagem”, os verbos não apresentam a mesma regência.
- As palavras “infatigáveis”, “desinteressada” e “inutilmente” são formadas pelo processo de derivação.
- Os dois pontos em “Pousa sobre os espetáculos infatigáveis / Uma sonora ou silenciosa canção:” foram empregados para introduzir uma enumeração explicativa.

QUESTÃO 12

Assinale a alternativa **correta**.

- As expressões “Por ela” (versos 4 e 5) e “por ele” (verso 7) remetem, respectivamente, à canção e ao mundo.
- Os vocábulos “sonora” e “silenciosa” de acordo com o sentido, no texto, apresentam uma relação de exclusividade.
- Em “**Que** o mundo ficou mais belo”, a palavra grifada é classificada como pronome relativo.
- A conjunção “ainda que” estabelece uma relação condicional.
- A substituição do pronome oblíquo pela terceira pessoa em “os homens te conhecerão” corresponde a “os homens lhe conhecerão”.

Texto VI

Quanto tempo o álcool permanece no sangue após o consumo e depois de quanto tempo o motorista poderá dirigir?

Um copo de cerveja demora cerca de seis horas para ser eliminado pelo organismo. Uma dose de uísque, que é bem mais forte que a cerveja, demora mais tempo que isso. O mais garantido é que o motorista possa dirigir depois de 24 horas. Se ele estiver de ressaca e com sintomas provocados pela grande quantidade de álcool consumida, o melhor é ficar em casa. Este é o momento em que o álcool começa a ser tóxico e permanece no corpo por mais tempo.

(Fonte: <http://g1.globo.com>)

Responda as questões 13 e 14 de acordo com o texto.

QUESTÃO 13

Assinale a alternativa que apresenta o objetivo do texto.

- Discutir a importância do bafômetro para detectar a permanência de álcool no sangue.
- Questionar a aprovação da lei seca.
- Esclarecer dúvidas sobre o tempo de permanência de álcool no organismo.
- Orientar o motorista para que nunca consuma bebida alcoólica.
- Esclarecer as sanções a quem dirige alcoolizado.

QUESTÃO 14

Assinale a alternativa em que a substituição da palavra em negrito pelo termo proposto compromete o sentido do texto.

- eliminado** – excluído.
- garantido** – seguro.
- sintomas** – sinais.
- dose** – porção.
- consumida** – produzida.

QUESTÃO 15

No enunciado “Não foi convocado por Parreira, mas fez o gol que deu ao Barcelona o título de campeão europeu”, a conjunção **mas** expressa idéia de:

- conclusão.
- comparação.
- oposição.
- explicação.
- adição.

Texto VII

Contramão

O carro percorre uma rua inteira na contramão, em alta velocidade.

Até que um guarda finalmente consegue pará-lo:

– O senhor está louco? Aonde pensa que está indo? – Gritou o guarda, pondo a mão no três oitão.

O motorista do veículo, mais mamado que peito de mãe de trigêmeos, respondeu:

– Pra falar a verdade (hic) eu não sei... Mas tenho certeza de que tô atrasado, porque todo mundo já tá voltando!

(www.mundodaspiadas.com)

Leia o texto e responda as questões de 16 a 20.

QUESTÃO 16

Percebe-se o humor do texto na:

- atitude do guarda.
- velocidade do carro.
- ausência de bafômetro.
- resposta do motorista.
- esperteza do guarda.

QUESTÃO 17

A palavra empregada no texto com valor conotativo é:

- mamado.
- contramão.
- atrasado.
- trigêmeos.
- louco.

QUESTÃO 18

No texto, a forma pronominal “lo” (13) refere-se ao:

- motorista.
- guarda.
- carro.

- senhor.
- veículo.

QUESTÃO 19

A expressão “Até que” (13), na relação entre os termos da oração, tem valor de:

- causa.
- finalidade.
- temporalidade.
- modo.
- conformidade.

QUESTÃO 20

Predomina nesse texto a linguagem:

- formal.
- científica.
- regional.
- poética.
- coloquial.

MATEMÁTICA

QUESTÃO 21

O desempenho de um automóvel na estrada é de 13 km por litro de combustível.

Sabendo-se que um tanque tem capacidade para 48 litros, a autonomia desse automóvel na estrada será de:

- 524 km
- 634 km
- 624 km
- 454 km
- 534 km

QUESTÃO 22

A distância entre duas cidades é de 600 km. Para percorrê-la, um automóvel locomoveu-se à velocidade de 80 km/h nos primeiros 200 km. A partir daí, percorreu mais 200 km à velocidade de 120 km/h. Por fim, percorreu os últimos 200 km à velocidade de 115 km/h. Desse modo, a velocidade média no percurso entre as duas cidades foi de:

- 105 km/h
- 115 km/h
- 90,5 km/h
- 100,5 km/h
- 110,5 km/h

QUESTÃO 23

Ao dirigir seu automóvel pela cidade, Antonio percebeu que havia perfurado um dos pneus com um pedaço de metal, e cada vez que o pneu girava e o metal incidia no asfalto, ouvia-se um barulho característico. Do momento do incidente até o local da parada para trocar o pneu, Antonio ouviu 8 vezes o barulho do metal no asfalto.

Qual a distância aproximada percorrida entre o incidente até o ponto de parada, sabendo-se que, ao parar, o metal fica em contato com o asfalto e o pneu tem um diâmetro de 1 metro?

- 50,24 metros
- 5,024 metros
- 251,2 metros
- 25,12 metros
- 2,512 metros

QUESTÃO 24

A orientação dada ao proprietário de um automóvel com sistema biocombustível (álcool e gasolina) é de que, em termos de economia, somente compensa abastecer a

álcool se o valor pago por litro desse combustível não exceder a fração de 70% do valor pago pelo litro de gasolina. Determinado posto de combustível anuncia os valores seguintes: Álcool R\$ 1,41 e Gasolina R\$ 2,69.

Nessas condições, assinale a alternativa **correta**.

- A melhor opção seria abastecer a álcool, pois o valor do litro representa menos de 50% do valor da gasolina.
- A melhor opção seria abastecer à gasolina, pois o preço do litro de álcool excede os 70% do seu valor.
- Nesse caso, independente do combustível escolhido, o custo final será o mesmo, já que o preço cobrado por litro de álcool equivale a exatamente 70% do preço do litro de gasolina.
- A melhor opção seria abastecer a álcool, pois o seu valor representa menos de 53% do valor da gasolina.
- Para encher o tanque de gasolina seria necessário gastar 80% a mais que o valor gasto para encher o mesmo tanque se o combustível fosse álcool.

QUESTÃO 25

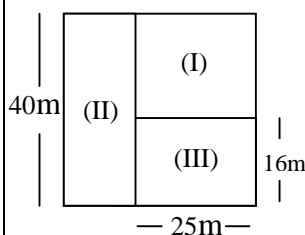
Para locar um veículo, Carlos analisou o custo em duas locadoras, A e B. Na locadora A, o sistema de cobrança consiste num valor fixo diário de R\$ 50,00 mais o adicional de R\$ 2,00 por quilômetro rodado. Na locadora B, o valor fixo diário é de R\$ 30,00 e o adicional por quilômetro rodado é de R\$ 3,00.

Sabendo-se que Carlos necessita do veículo apenas por um dia, qual a quilometragem a ser percorrida no dia, de modo que ele pague o mesmo valor, independentemente da locadora escolhida?

- 10 km
- 20 km
- 30 km
- 40 km
- 50 km

QUESTÃO 26

Um terreno com a forma de um quadrado de 40 m de lado foi dividido em três regiões retangulares, destinadas à construção de uma casa (I), um jardim (II) e uma quadra de vôlei (III), conforme sugere a figura abaixo:



Determine a área da região (I).

- 600 m²
- 1000 m²
- 400 m²
- 640 m²
- 500 m²

QUESTÃO 27

José acha que seu relógio está atrasado em 5 minutos, contudo, na realidade ele está adiantado em 5 minutos. Certo dia, José chegou ao trabalho pensando estar adiantado em 10 minutos para o início do expediente, quando, na verdade, o expediente:

- já iniciou há 20 minutos.
- iniciará em 5 minutos.

- iniciará no momento da sua chegada.
- já iniciou há 5 minutos.
- iniciará em 20 minutos.

QUESTÃO 28

Uma empresa contratou 5 motoristas classificados no concurso. Antonio, com 30 anos de idade; José, com 29 anos; Carlos, com 35 anos; Maria, com 41 anos; e Sérgio, com 45 anos de idade.

O número que representa a média de idade entre os 5 motoristas é:

- 34 anos.
- 37 anos.
- 32 anos.
- 36 anos.
- 35 anos.

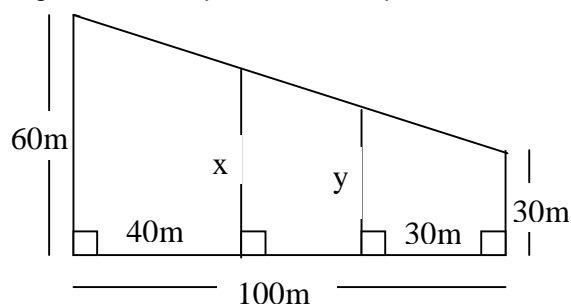
QUESTÃO 29

Os rendimentos mensais de um motorista de determinada empresa são compostos pelo salário e gratificações recebidas por cada viagem que faz para a empresa. Em determinado mês, as gratificações recebidas corresponderam a $\frac{1}{4}$ (um quarto) do seu salário mensal. Sabendo-se que o seu salário é de R\$ 1.800,00, assinale a alternativa cujos valores correspondem, respectivamente, ao total de rendimentos e à gratificação recebida naquele mês.

- R\$ 2.200,00 e R\$ 450,00
- R\$ 2.400,00 e R\$ 600,00
- R\$ 2.250,00 e R\$ 450,00
- R\$ 2.500,00 e R\$ 700,00
- R\$ 2.100,00 e R\$ 300,00

QUESTÃO 30

A figura abaixo representa uma quadra com três lotes.



Assinale a alternativa que representa o comprimento de x e y, respectivamente.

- 48m e 33m.
- 49m e 42m.
- 52m e 42m.
- 52m e 39m.
- 48m e 39m.

HISTÓRIA

QUESTÃO 31

Em 1977, o estado de Mato Grosso foi dividido, dando origem às seguintes unidades da federação.

- Mato Grosso e Mato Grosso do Sul.
- Mato Grosso do Norte e Mato Grosso.
- Mato Grosso do Sul e Mato Grosso do Norte.
- Mato Grosso do Sul, Mato Grosso e Tocantins.
- Rondônia, Mato Grosso do Sul e Mato Grosso.

QUESTÃO 32

Em 1941, Mato Grosso recebeu a visita do então presidente da República.

Essa informação refere-se a:

- Eurico Gaspar Dutra.
- João Goulart.
- Washington Luiz.
- Juscelino Kubitschek.
- Getúlio Vargas.

QUESTÃO 33

Sobre a mineração em Mato Grosso, durante o período colonial, pode-se afirmar.

- O trabalho era feito exclusivamente por homens livres.
- Os impostos arrecadados com a mineração eram aplicados na Capitania.
- A exploração do ouro era feita em minas profundas.
- Portugal permitiu à Capitania de Mato Grosso liberdade na comercialização do ouro extraído de suas minas.
- A partir da segunda metade do século XVIII, houve um rápido declínio da produção aurífera na Capitania de Mato Grosso.

QUESTÃO 34

Historicamente, Mato Grosso utilizou diferentes modalidades de transporte.

Atualmente é **correto** afirmar que o modelo predominante é:

- hidroviário.
- rodoviário.
- ferroviário.
- metroviário.
- ciclovário.

QUESTÃO 35

O primeiro governador de Mato Grosso, após a Proclamação da República (1889), foi Antonio Maria Coelho.

Sobre a forma como este mandatário assumiu o poder no Estado, assinale a alternativa **correta**.

- Foi eleito pelo voto direto e universal.
- Foi eleito pelos membros da Câmara Municipal de Cuiabá.
- Foi nomeado por Floriano Peixoto.
- Foi eleito pelos membros da Assembléia Legislativa do Estado.
- Foi nomeado pelo Presidente da República, Deodoro da Fonseca.

QUESTÃO 36

Sobre as eleições em Mato Grosso durante a Primeira República (1889 – 1930), assinale a alternativa **correta**.

- As eleições eram acompanhadas pelo Tribunal Regional Eleitoral, o que impedia a fraude.
- A força do movimento operário garantiu a eleição de candidatos, representando as diferentes categorias de trabalhadores.
- O voto no Estado era controlado pelos coronéis, geralmente proprietários de terra.
- As eleições transcorriam em perfeita ordem, garantindo a independência do voto.
- A ausência de violência durante as eleições permitia a livre manifestação do eleitor durante o pleito.

QUESTÃO 37

Nas décadas de 70 e 80 do século XX, Mato Grosso presenciou um processo de intensa colonização de suas terras.

Sobre as ações desenvolvidas que objetivavam a ocupação do território, nesse período, assinale a alternativa **incorreta**.

- Com o objetivo de integrar a região Amazônica, foi criado o PIN (Programa de Integração Nacional).
- Para acelerar a ocupação do território mato-grossense, foram construídas várias ferrovias.
- Como forma de facilitar o acesso à região Amazônica, foram construídas as rodovias Cuiabá-Santarém e Cuiabá-Porto Velho.
- Parte expressiva da população que se deslocou para Mato Grosso, nas décadas de 70 e 80, era oriunda do Paraná, Santa Catarina e Rio Grande do Sul.
- Como reflexo da colonização, surgiram no norte de Mato Grosso várias cidades.

QUESTÃO 38

O final do século XIX e os anos iniciais do século XX caracterizam-se pela aceleração da industrialização, inovações tecnológicas e científicas. Como reflexo da modernidade vigente, Mato Grosso passará a contar com linhas telegráficas, tornando-se mais rápido o serviço de comunicação.

Sobre esse tema, assinale a alternativa **incorreta**.

- Os trabalhos da Comissão Rondon em Mato Grosso foram realizados com mão-de-obra diversificada, inclusive por marinheiros que participaram da rebelião de 1910 na Capital Federal.
- A Comissão Rondon era constituída não apenas de militares, mas também de especialistas em botânica, zoologia e geologia, além de outros componentes.
- Um dos problemas enfrentados na construção das linhas telegráficas eram as freqüentes doenças que acometiam os membros da Comissão Rondon.
- A ausência de disciplina comprometeu os trabalhos de construção das linhas telegráficas, interrompeu as atividades e culminou com a substituição de Rondon pelo general Cunha Matos.
- Um dos propósitos da Comissão Rondon, segundo as premissas positivistas, foi realizar um trabalho junto aos povos indígenas no sentido de inseri-los no que então os republicanos denominavam de civilização.

QUESTÃO 39

A colonização no século XVIII, em Mato Grosso, pôs em contato as sociedades indígenas existentes e os portugueses.

Sobre a relação que se estabeleceu entre esses diferentes povos, assinale a alternativa **incorreta**.

- Durante o século XVIII, bandeiras paulistas penetraram em solo mato-grossense com o objetivo de escravizar a população indígena.
- Uma das formas de resistência dos indígenas foram os ataques às monções como no caso dos Paiaguá.

- c. Os portugueses optaram por não utilizar os índios como mão-de-obra escrava nos trabalhos de mineração.
- d. Doenças adquiridas pelos índios, em contato com os colonizadores, foram também responsáveis pela morte de parcela dos gentios.
- e. Os jesuítas utilizaram a catequese para combater os rituais religiosos e a cultura indígena.

QUESTÃO 40

Após a guerra da Tríplice Aliança com o Paraguai (1865-1870), a Província de Mato Grosso reordenou a economia, integrando-se ao comércio internacional.

Sobre o tema, assinale a alternativa **incorreta**.

- a. A cidade de Corumbá, devido a sua posição estratégica às margens do rio Paraguai, tornou-se um importante pólo comercial da Província de Mato Grosso.
- b. A Casa Comercial “José Dulce & Cia”, sediada em São Luiz de Cáceres, além das atividades comerciais, era proprietária de fazendas de criação de gado e de embarcações para transporte de mercadorias.
- c. As Casas Comerciais importavam manufaturados em geral e exportavam matérias primas produzidas na Província e, muitas vezes, faziam o papel de Casas de Câmbio, comprando e vendendo moedas estrangeiras.
- d. O comércio de exportação e importação era feito por embarcações conhecidas como “lanchas a vapor”, modeladas para transportar mercadorias e passageiros.
- e. As atividades das Casas Comerciais estavam restritas ao comércio de importação e exportação, ficando circunscritas às cidades de Corumbá e São Luiz de Cáceres.

GEOGRAFIA

QUESTÃO 41

A ocupação do atual estado de Mato Grosso, iniciou-se no século XVI.

Com relação a esse processo de ocupação, marque (**V**) para as afirmativas verdadeiras e (**F**) para as falsas.

- () No século XVI, por ordem do Tratado de Tordesilhas, a região de Mato Grosso pertencia à Coroa portuguesa, que dominava toda a faixa Oeste do território brasileiro.
- () No final do século XVII e início do século XVIII, a Coroa portuguesa, com objetivos de ampliar os domínios além da faixa litorânea e da linha de Tordesilhas, incentivou as expedições para descobrir riquezas no interior do país, chegando, assim, ao espaço que é hoje o atual território mato-grossense.
- () A entrada dos Bandeirantes em Mato Grosso ocorreu, principalmente, através do rio Paraguai, seus afluentes e de pequenos trechos terrestres, acessos conhecidos como percursos das monções.
- () No processo inicial de ocupação do estado de Mato Grosso, os povos indígenas foram respeitados, enquanto sociedades auto-organizadas, com direito aos seus territórios. Isso justifica a presença desses povos até os dias de hoje no Estado.

Assinale a alternativa que apresenta a seqüência **correta**.

- a. V – V – F – F
- b. F – F – V – V
- c. F – V – V – F
- d. V – V – V – V
- e. F – F – F – F

QUESTÃO 42

Nas décadas de 1970 e 1980, os governos estaduais e federais implementaram ações que transformaram o espaço mato-grossense. Dentre estas, destaca-se a criação de programas especiais de desenvolvimento para colocar em prática os projetos agropecuários e os programas de colonização na Amazônia e Centro-Oeste. Fazem parte destes programas, **exceto**.

- a. O PIN-Programa de Integração Nacional.
- b. O PROBOR-Programa de Incentivos à Produção da Borracha Vegetal.
- c. O PRODENE-Programa de Desenvolvimento do Nordeste Mato-grossense.
- d. O PROTERRA-Programa de Redistribuição de Terras e de Estímulo à Agroindústria do Norte e Nordeste.
- e. O POLOCENTRO-Programa de Desenvolvimento dos Cerrados.

QUESTÃO 43

A geografia da população analisa a distribuição espacial da população e a sua mobilidade geográfica, discutindo as causas dos padrões encontrados e, principalmente, as decorrências em todos os aspectos da vida social (OLIVA e GIANANTI, 1999).

A partir dessa afirmação, analise os itens.

- I. Os fluxos migratórios para Mato Grosso contribuíram para o aumento da população e para a incorporação de novas modalidades do uso da terra
- II. A maioria da população mato-grossense vive na zona rural, distribuída na região norte do Estado.
- III. Na contagem da população mato-grossense, feita pelo IBGE em 2000, verificou-se que a maioria dos residentes no Estado era do sexo feminino.
- IV. As cidades de Cuiabá, Várzea Grande e Rondonópolis são as que possuem o maior número de habitantes do Estado.
- V. O município de Rondonópolis foi o que apresentou, no ano de 2000, a maior densidade demográfica do estado de Mato Grosso.

Assinale a alternativa **correta**.

- a. Todos os itens estão corretos.
- b. Apenas I, II e III estão corretos.
- c. Apenas I e IV estão corretos.
- d. Apenas III e V estão corretos.
- e. Apenas I e II estão corretos.

QUESTÃO 44

No que se refere à regionalização do espaço brasileiro, existem duas propostas que são utilizadas com maior frequência nos livros didáticos nacionais. A mais antiga é a divisão em macrorregiões do IBGE e a mais recente é a divisão em regiões geoeconômicas.

Analise os itens em que o estado de Mato Grosso aparece nas propostas de divisão regional do território brasileiro.

- I. Na proposta do IBGE, os estados de Mato Grosso, Mato Grosso do Sul, Goiás e o Distrito

Federal pertencem à região Centro-Oeste do Brasil.

- II. Na proposta do IBGE (atual), os estados de Mato Grosso, Mato Grosso do Sul, Goiás, Tocantins e o Distrito Federal pertencem à região Centro-Oeste do Brasil.
- III. A proposta de regiões geoeconômicas não obedece à divisão das unidades da federação e, nesse sentido, o estado de Mato Grosso possui áreas em duas regiões: ao Norte na Amazônia e ao Sul no Centro-Sul.
- IV. Na proposta de regiões geoeconômicas, o estado de Mato Grosso, por se situar na Amazônia Legal, encontra-se, em sua totalidade, na região da Amazônia.
- V. Na proposta de regiões geoeconômicas, apenas a porção Sul do estado de Mato Grosso está inserida na região Centro-Sul.

Assinale a alternativa **correta**.

- a. Todos os itens estão corretos.
- b. Nenhum dos itens está correto.
- c. Apenas I, II e III estão corretos.
- d. Apenas III, IV e V estão corretos.
- e. Apenas I, III e V estão corretos.

QUESTÃO 45

As Unidades de Conservação (UCs) são espaços ambientais que possuem importantes características naturais e são legalmente instituídas pelo Poder Público com objetivo de conservação. A criação das UCs é a principal proposta para diminuir os efeitos da destruição dos ecossistemas brasileiros (WWF, 2006).

Na coluna A são apresentados três biomas contidos no espaço mato-grossense; na coluna B estão elencadas as Unidades de Conservação, criadas no estado de Mato Grosso para conservação dos biomas.

Faça a correspondência entre as colunas A e B.

Coluna A

- I. Amazônia
- II. Cerrado
- III. Pantanal

Coluna B

- () Estação Ecológica da Serra das Araras.
- () Estação Ecológica de Taiamã.
- () Parque Nacional da Chapada dos Guimarães.
- () Parque Nacional do Juruena.

Assinale a alternativa que apresenta a seqüência **correta**.

- a. I, II, III e II
- b. II, I, II e III
- c. III, III, I e II
- d. II, III, II e I
- e. II, I, III e II

QUESTÃO 46

Mato Grosso contava, em 2003, com um total de 7.332 indústrias cadastradas na Secretária de Estado da Fazenda-SEFAZ. Deste total, 2.175 (29,66%) estabelecimentos eram do ramo madeireiro, 404 (5,51%) do ramo mobiliário e 623 (22,13%) do ramo alimentício (MORENO, 2005).

O que o texto indica em relação ao setor Industrial mato-grossense?

- a. No estado de Mato Grosso, o setor industrial é bastante diversificado.

- b. O predomínio de atividades voltadas ao ramo mobiliário indica o alto grau de desenvolvimento da indústria de ponta no estado.
- c. O predomínio da indústria madeireira revela uma estreita vinculação dessa atividade com o potencial de recursos naturais existentes no Estado.
- d. A indústria madeireira, predominante no Estado, concentra-se, quase que em sua totalidade na região Centro-Sul mato-grossense, de domínio da Floresta Amazônica.
- e. O setor alimentício encontra-se em decadência, sendo que os poucos estabelecimentos, ainda existentes, concentram-se na porção Norte do estado de Mato Grosso.

QUESTÃO 47

É impossível andar pelas ruas da capital mato-grossense sem notar a diversidade dos semblantes que caracterizam sua população (PIAIA, 2003).

O texto acima, refere-se:

- a. a um povo cansado e sofrido, devido às precárias condições sociais e econômicas da capital do Estado.
- b. à diversidade étnico-cultural da população que é fruto da miscigenação ocorrida entre três grupos étnicos que povoaram a capital e o Estado – negros, índios e brancos.
- c. a uma população homogênea em relação à formação étnico-cultural, ou seja, composta de maioria indígena.
- d. à importância dos negros na formação étnico-racial do povo mato-grossense, os primeiros habitantes do território mato-grossense.
- e. ao principal grupo étnico do Estado de Mato Grosso – os índios – do qual se herdou a língua e a religião.

QUESTÃO 48

Nas últimas três décadas, Mato Grosso vem apresentando um crescimento considerado extraordinário no setor agropecuário.

Sobre esse assunto, assinale a alternativa **correta**.

- a. A soja, o milho, a cana-de-açúcar, o centeio e a cevada são os principais produtos agrícolas cultivados em solo mato-grossense.
- b. Os municípios de Cuiabá, Sinop, Rondonópolis e Sorriso são os maiores produtores de cana-de-açúcar do Estado.
- c. Na pecuária, o rebanho bovino concentra-se na região Norte do estado, com destaque para a atividade de corte.
- d. Com a modernização do campo, a agricultura familiar deixou de existir no estado, sendo hoje praticada apenas nas comunidades quilombolas.
- e. A cultura do algodão tornou-se inviável no estado e apresentou redução na área colhida e no rendimento médio por kg/ha nos últimos anos.

QUESTÃO 49

Dois motoristas, em viagem por terras mato-grossenses, durante suas atividades no MT Fomento, tomaram rumos diferentes: o primeiro seguiu por uma rodovia federal que corta o Estado no sentido sul/norte e faz a integração dessa região do estado com o Sul e Sudeste do país; e o segundo seguiu por uma rodovia estadual que passa por Poconé e liga Cuiabá a Porto Jofre.

Com base no exposto, pode-se afirmar.

- a. O primeiro motorista viajou pela BR 070 e o segundo, pela MT 100, também conhecida como rodovia da Jangada.
- b. O primeiro motorista seguiu pela BR 158 e o segundo, pela MT 170, também conhecida como Transamazônica.
- c. O primeiro motorista seguiu pela BR 101 e o segundo, pela MT 343, também conhecida como Transpantaneira.
- d. O primeiro motorista seguiu pela BR 163 e o segundo, pela MT 060, também conhecida como Transpantaneira.
- e. O primeiro motorista seguiu pela BR 070 e o segundo, pela MT 163, também conhecida com Transamazônica.

QUESTÃO 50

Em se tratando de urbanização no estado de Mato Grosso, no século XVIII, o ciclo da mineração deu origem a quais cidades mato-grossenses?

- a. Alta Floresta e Sinop.
- b. Rondonópolis e Alto Araguaia.
- c. Juína, Juara e Comodoro.
- d. Cuiabá, Cáceres e Rondonópolis.
- e. Cuiabá e Vila Bela da Santíssima Trindade.

LEGISLAÇÃO DE TRÂNSITO

QUESTÃO 51

O motorista que estiver transitando na faixa da direita de uma via, ao perceber que outro condutor tem o propósito de ultrapassá-lo, deverá:

- a. deslocar seu veículo para a faixa da esquerda, a fim de que o outro veículo possa ultrapassar pela faixa da direita.
- b. manter-se na faixa em que está circulando, mas acelerar um pouco a marcha a fim de dar maior fluidez ao trânsito.
- c. ligar o pisca-alerta para que o outro condutor perceba que há um veículo à frente e possa evitar a colisão traseira.
- d. manter-se na faixa em que está circulando, sem acelerar a marcha.
- e. deslocar o veículo o mais possível para a direita, de modo a ocupar parte do acostamento quando este existir.

QUESTÃO 52

No instante em que o sinal semaforico liberou a passagem de veículos, um motorista percebeu que havia dois pedestres na faixa que ainda não concluíram a travessia.

Diante dessa situação, considerando a normatização do CTB e os preceitos inerentes à prática da direção defensiva, deverá o condutor:

- a. manter imobilizado o veículo, dando preferência aos pedestres para que possam concluir a travessia.
- b. manter imobilizado o veículo e fazer uso da buzina em breve toque, como forma de avisar os pedestres da abertura do trânsito aos veículos.
- c. avançar lentamente com o veículo, de modo que o motorista consiga seguir sem atropelar os pedestres.

- d. manter imobilizado o veículo e efetuar gestos para que os pedestres entendam que é necessário atravessar mais rapidamente.
- e. avançar normalmente com o veículo, o que forçará os pedestres a interromper a travessia.

QUESTÃO 53

De acordo com o Código de Trânsito Brasileiro, a ordem de prevalência da sinalização de trânsito será a seguinte:

- a. primeiramente as ordens do agente de trânsito, em seguida a indicação dos sinais verticais e horizontais e, por último, a indicação do semáforo e demais normas de trânsito.
- b. primeiramente as ordens do agente de trânsito, em seguida a indicação do semáforo, depois a indicação dos sinais e, por último, as demais normas de trânsito.
- c. primeiramente a indicação do semáforo, em seguida as ordens do agente de trânsito e, por último, a indicação dos demais sinais e as normas de trânsito.
- d. primeiramente a indicação do semáforo, em seguida as ordens do agente de trânsito, depois as indicações dos sinais verticais sobre as horizontais e, por último, a indicação dos demais sinais e normas gerais de trânsito.
- e. primeiramente as normas gerais de trânsito, em seguida a indicação do semáforo, posterior e simultaneamente as ordens do agente de trânsito e a sinalização horizontal e vertical.

QUESTÃO 54

Os passageiros ocupantes de um veículo conduzido por Mévio, motorista, ingeriram várias laranjas durante o percurso.

Primando pela proteção do meio ambiente, Mévio determinará aos ocupantes do veículo a seguinte conduta:

- a. deverão atirar os restos das frutas na via, pois estas são biodegradáveis e rapidamente serão decompostas.
- b. deverão observar se não há veículos transitando, tanto no mesmo sentido como em sentido contrário, para que possam, com segurança, atirar os restos para fora do veículo.
- c. deverão guardar os restos das frutas no interior de veículo e, na ocasião de breve parada no acostamento, efetuar o depósito dos restos na faixa de domínio da rodovia.
- d. deverão guardar os restos das frutas no interior de veículo e, na ocasião de parada onde houver local de acondicionamento de lixo, ali efetuar o depósito dos restos de laranjas.
- e. deverão evitar jogar os restos de laranja na via pública, para que não sejam flagrados cometendo infração de trânsito. Para tanto, deverão abandonar os restos de laranja em lotes limdeiros à via que, geralmente, são de propriedade particular.

QUESTÃO 55

Tício, motorista de uma instituição pública, envolveu-se em acidente de trânsito com vítima lesionada gravemente. Na ocasião, devido à presença de parentes da vítima que ameaçavam linchá-lo, Tício não prestou socorro e deixou o local com o veículo. Logo em seguida, efetuou ligação ao corpo de bombeiros, solicitando auxílio das autoridades públicas.

Nesse caso, a conduta do motorista será punida da seguinte forma:

- a. criminalmente, com detenção que poderá variar de 06 (seis) meses a 01 (um) ano.
- b. só administrativamente, nos termos do artigo 176, inciso I do CTB, porque neste caso, dadas as circunstâncias, não há que se falar em cometimento do crime de omissão de socorro.
- c. será punido tanto criminal como administrativamente, pois no caso posto houve omissão de socorro por parte de Tício, que deveria permanecer no local e suportar as consequências de seus atos.
- d. não se imporá punição alguma ao motorista, pois as ameaças à sua vida e a ligação, logo em seguida, para a autoridade pública solicitando auxílio, excluem a infração de trânsito e o crime de omissão de socorro.
- e. Tício responderá pelo crime de omissão de socorro, mas terá sua pena reduzida devido à ameaça de morte pelos parentes da vítima.

QUESTÃO 56

Mélvio, motorista de uma fundação governamental, conduzia um veículo coletivo com capacidade para 16 (dezesseis) passageiros, em uma rodovia não sinalizada, quando foi flagrado pela autoridade de trânsito, dirigindo a uma velocidade de 110 Km/h.

Nessa situação, Mélvio sofrerá as seguintes consequências:

- a. será penalizado com multa, pois cometeu infração grave.
- b. será penalizado com multa, pois cometeu infração média.
- c. será penalizado com multa, pois cometeu infração gravíssima.
- d. será penalizado com multa em um valor multiplicado por três, e por ter cometido infração gravíssima terá o direito de dirigir suspenso e seu documento de habilitação apreendido.
- e. não será penalizado, pois estava conduzindo o veículo a uma velocidade não superior à máxima permitida por lei.

QUESTÃO 57

Farmaco Lopes conduzia um veículo em uma via de trânsito rápido, quando à sua frente observou um veículo de transporte coletivo que havia parado para efetuar embarque e desembarque de passageiros.

Farmaco, para ultrapassar tal veículo, deve:

- a. parar atrás do veículo, pois não é permitido a ultrapassagem de veículos coletivos nessa situação.
- b. reduzir a velocidade, dirigindo com atenção redobrada, ou parar seu veículo com vistas à segurança dos pedestres.
- c. continuar a viagem na mesma velocidade em que estava, pois aos pedestres é vedado atravessar a via sem que haja faixa de sinalização específica.
- d. fazer a ultrapassagem pela direita com bastante prudência, para que assim proteja a integridade dos pedestres.
- e. ultrapassar pela contramão, obedecendo às sinalizações vertical e horizontal da via, mesmo que a velocidade desenvolvida esteja pouco acima da permitida para o local.

QUESTÃO 58

O condutor que for flagrado dirigindo em via pública, sob efeito de álcool ou sob influência de qualquer outra substância psicoativa que determine dependência, será penalizado administrativamente com:

- a. reclusão, de seis meses a três anos, multa e recolhimento do documento de habilitação.
- b. detenção de seis meses a três anos, multa e suspensão do direito de dirigir.
- c. multa (três vezes) e suspensão do direito de dirigir por 12 (doze) meses.
- d. multa e suspensão do direito de dirigir, o que implica o recolhimento do documento de habilitação e detenção do condutor.
- e. multa (cinco vezes) e suspensão do direito de dirigir por 12 (doze) meses.

QUESTÃO 59

O condutor, ao regular a velocidade, deverá sempre dirigir, tomando todos os cuidados necessários à preservação da sua integridade física, dos passageiros do veículo e dos demais condutores que se utilizam da via.

Para isso, deverá observar algumas regras de segurança, exceto.

- a. As condições físicas da via, do veículo e da carga.
- b. As condições meteorológicas e a intensidade do trânsito, obedecendo aos limites de velocidade estabelecidos para a via.
- c. Não obstruir a marcha normal dos demais veículos em circulação, transitando a uma velocidade anormalmente reduzida, a não ser que para isso haja causa justificada.
- d. Indicar, de forma clara, com a antecedência necessária e a sinalização devida, a manobra de redução de velocidade.
- e. No caso de chuva, reduzir a velocidade abaixo da metade da máxima permitida para o local, com o intuito de reduzir o risco para os demais condutores, ou parar no acostamento até que o tempo melhore.

QUESTÃO 60

Assinale a alternativa **incorreta**.

- a. As crianças, com idade inferior a dez anos, devem ser transportadas nos bancos traseiros, salvo exceções regulamentadas pelo CONTRAN.
- b. A velocidade mínima não poderá ser inferior à metade da velocidade máxima estabelecida, respeitadas as condições operacionais de trânsito e da via.
- c. O condutor de veículo destinado à condução de escolares deve ter idade superior a 18 anos e ser habilitado na categoria D, além de outros requisitos exigidos por lei.
- d. É vedado aos condutores de motocicletas, motonetas e ciclomotores transportar criança menor de sete anos ou que não tenha condições de cuidar de sua própria segurança.
- e. O cinto de segurança, além de ser equipamento obrigatório para os veículos, seu uso também é obrigatório para o condutor e passageiros em todas as vias do território nacional, a não ser em situações regulamentadas pelo Conselho Nacional de Trânsito.